

Московская олимпиада школьников
2018–2019 учебный год
Очный этап
5 класс

Задание 1.

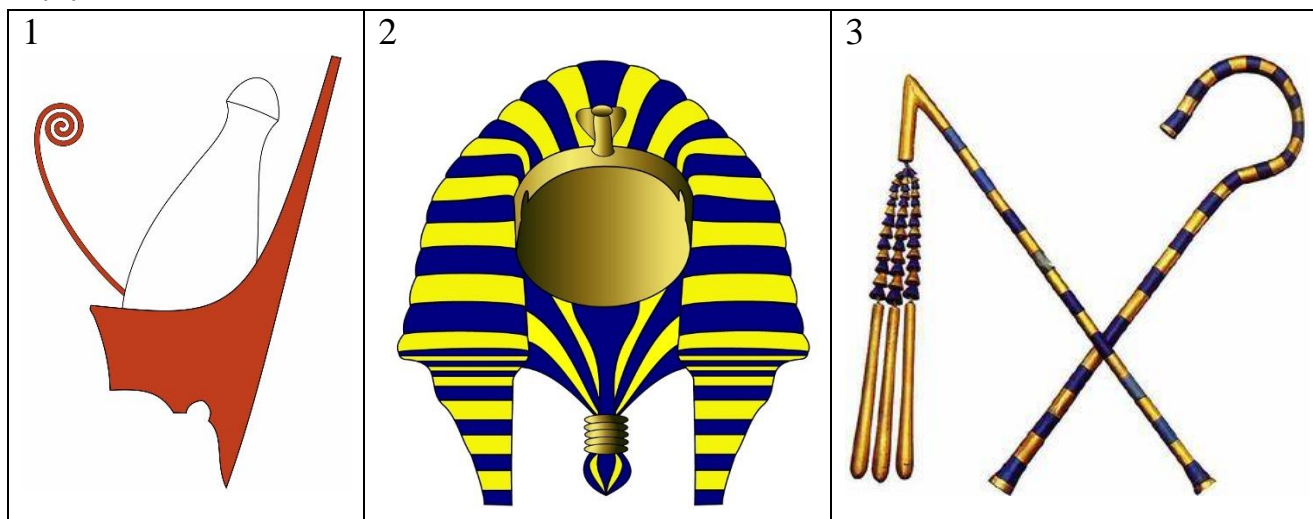
Вашему вниманию представлены группы изображений, которые объединены общим принципом. Назовите, кто или что изображено. Укажите принцип, на основании которого объединены изображения.

1.1.



Кто изображён на представленных изображениях?

1.2.



Что изображено на представленных изображениях?

Задание 2.

Вам представлены изображения воинов разных государств Древнего мира. Назовите государство, к которому они относятся. Сопоставьте воинов с битвами, в которых они могли бы участвовать (сражаясь в армии соответствующего государства).



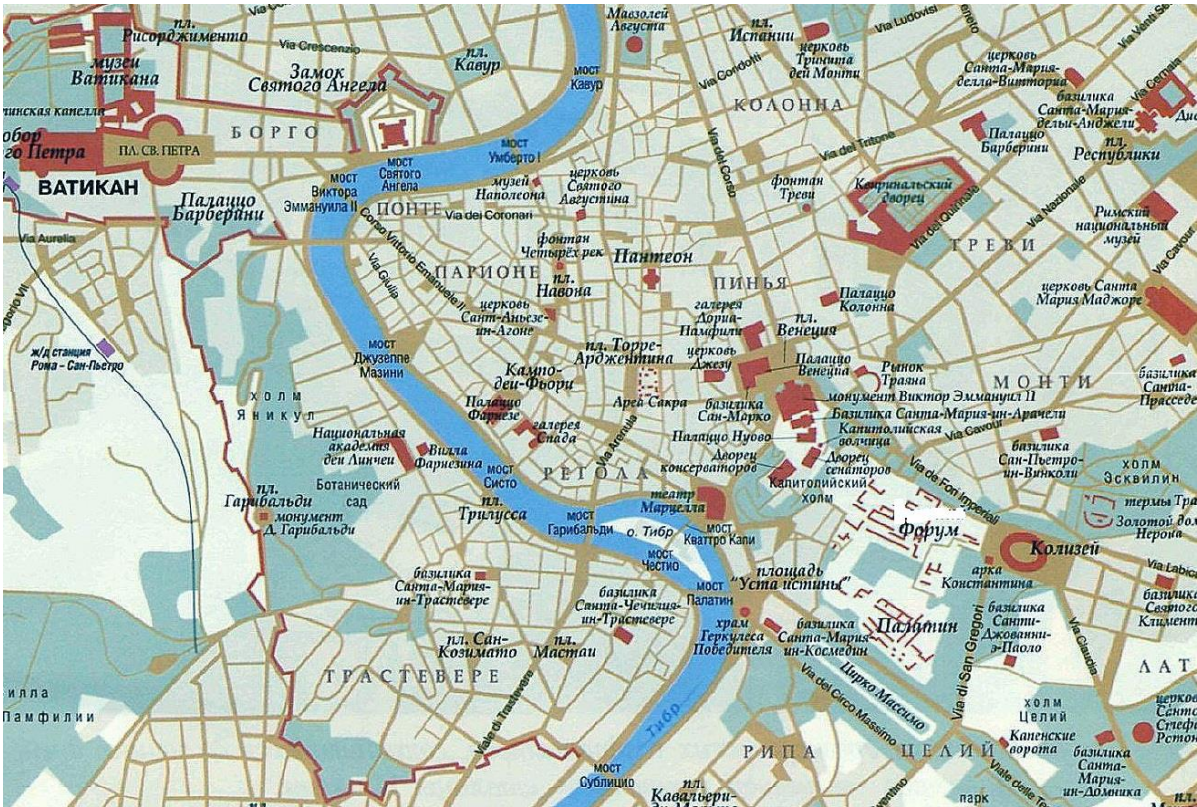
Битвы:

1. Сражение при Гавгамеллах
2. Битва при Каннах
3. Взятие Кадеша
4. Битва при Иссе
5. Сражение в Тевтобургском лесу
6. Сражение с царём Пором
7. Битва при Мегиддо
8. Каркемишская битва
9. Сражение у Мильвийского (Мульвиева) моста

Перенесите названия строк в таблицу бланка ответа

Порядковый номер изображения	1	2	3
Название государства			
Порядковые номера фактов			

Задание 3. Рассмотрите изображение и выполните задания.



3.1. Укажите название города, отображенного на схеме. Укажите век, когда он основан.





3.2. Какие суждения из представленных верны?

1. Этот город стоит на 7 холмах
2. Этот город стоит на реке Тибр
3. Этот город был одним из древнегреческих полисов
4. В этом городе неоднократно бывал Октавиан Август
5. Этот город знаменит своим Акрополем
6. На представленной схеме отображены территории сразу двух государств.

3.3. Вам необходимо подготовить материалы для страницы туристической фирмы в популярной социальной сети. Назначение этой страницы убедить клиентов приехать в этот город и познакомиться с памятниками его истории, относящимися к периоду Древнего мира.

Вам надо подобрать фотографии древних памятников. При этом надо учитывать, что некоторые памятники сохранились очень плохо, и, чтобы привлечь туристов, необходимо дать современное изображение памятника и реконструкцию того, как он выглядел в древности.

Обратите внимание, что среди изображений, есть изображения памятников, построенных в более поздний период.

<p style="text-align: center;">1</p> 	<p style="text-align: center;">2</p> 
<p style="text-align: center;">3</p> 	<p style="text-align: center;">4</p> 



Перенесите названия столбцов в таблицу бланка ответа

Название памятника	Порядковый номер современного изображения	Порядковый номер изображения реконструкции (если имеется)	Подпись, состоящая из двух предложений, содержащая информацию, что это за памятник, почему его обязательно нужно осмотреть
--------------------	---	---	--

Вам нужно определить и вписать в таблицу в бланке ответа названия памятников, установить изображения современного вида и реконструкции (если имеется среди изображений) названного вами памятника, вписать их порядковые номера в соответствующие графы таблицы и дать в двух предложениях пояснение к каждому памятнику, чем он известен.