

Задание 1.

В заданиях 1-10 необходимо выбрать единственный верный ответ.

Велосипедист:

1. является водителем во всех случаях
2. не является водителем
3. является водителем, когда движется по полосе для велосипедистов
4. является водителем, когда движется по правому краю проезжей части

Задание 2.

Рекомендуемая дистанция между велосипедистами на спусках должна составлять:

1. 13–14 м
2. 8–9 м
3. 5–7 м
4. 10–12 м

Задание 3.

Укажите значение сигнала «Земля–воздух»:



1. «Сбросьте сообщение»
2. «Заберите нас, самолет покинут»
3. «Наш приёмник не работает»
4. «Производить посадку здесь»

Задание 4.

На компасе направление юго-восток соответствует:

1. 180°
2. 270°
3. 135°
4. 225°

Задание 5.

При извержении вулкана из раскалённого пепла и газов может образоваться:

1. слепящая туча
2. палящая туча
3. удушающая туча
4. зловонная туча

Задание 6.

Какой орден представлен на изображении?



1. орден «За военные заслуги»
2. орден Почёта
3. орден Мужества
4. орден Святого Георгия

Задание 7.

Что обозначает изображённый петличный знак?



1. принадлежность к Сухопутным войскам Российской Федерации
2. принадлежность к офицерскому корпусу Вооружённых Сил Российской Федерации
3. принадлежность к Ракетным войскам стратегического назначения
4. принадлежность к Вооружённым Силам Российской Федерации

Задание 8.

Кому принадлежат слова: «Я честью и Родиной не торгую!»

1. Д.М. Карбышеву
2. Р.Г. Зорге
3. З.А. Космодемьянской
4. Н.И. Кузнецову

Задание 9.

Какие из перечисленных факторов оказывают преимущественное влияние на здоровье человека?

1. состояние окружающей среды
2. образ жизни человека
3. наследственность
4. уровень медицинского обеспечения

Задание 10.

Какая анатомическая область осматривается в первую очередь в ходе выполнения подробного осмотра пострадавшего при оказании первой помощи?

1. конечности
2. грудь
3. живот и таз
4. голова

Задание 11.

В заданиях 11-20 необходимо выбрать только ДВА верных ответа.

В случае отсутствия специальных посадочных площадок маршрутное транспортное средство разрешается ожидать на:

1. тротуаре
2. проезжей части
3. обочине
4. разделительной полосе
5. островке безопасности

Задание 12.

Какие сигналы может подавать воздушное судно ночью, чтобы сообщить пострадавшим, что их сигналы были поняты?

1. включение-выключение трижды посадочных фар
2. включение-выключение дважды посадочных фар
3. включение-выключение трижды аэронавигационных огней
4. включение-выключение дважды аэронавигационных огней
5. включение-выключение четырежды посадочных фар

Задание 13.

Какие из перечисленных костров являются наиболее подходящими для приготовления пищи?

1. нодья
2. шалаш
3. таёжный
4. камин
5. колодец

Задание 14.

Азимут – угол в горизонтальной плоскости, отсчитываемый:

1. по часовой стрелке
2. от южного направления до направления на заданный объект
3. против часовой стрелки
4. от западного направления до направления на заданный объект
5. от северного направления до направления на заданный объект

Задание 15.

Какие ягоды являются ядовитыми?

1. паслён красный
2. костяника
3. морошка
4. дикая смородина
5. бирючина

Задание 16.

Во время нахождения на судне пассажир должен знать:

1. где ему находится в случае эвакуации
2. как пользоваться фальшфейером
3. где находится механизм, опускающий шлюпку
4. порядок размещения пассажиров в шлюпке

5. в какой шлюпке определено его место

Задание 17.

Укажите поражающие факторы землетрясения.

1. сейсмический
2. физический
3. динамический
4. гравитационный
5. термический

Задание 18.

Признаками приближения урагана являются:

1. резкое увеличение атмосферного давления
2. усиление скорости ветра
3. наступление затишья
4. внезапное прекращение осадков
5. резкое падение атмосферного давления

Задание 19.

Определите название и цветовое обозначение уровня террористической опасности, который устанавливается при наличии требующей подтверждения информации о реальной возможности совершения террористического акта.

1. красный
2. синий
3. повышенный
4. жёлтый
5. высокий

Задание 20.

Когда и кому был дан первый артиллерийский салют во время Великой Отечественной войны?


1. войскам, освободившим Киев
2. 5 августа 1943 г.
3. войскам, освободившим Орёл и Белгород
4. войскам, освободившим Харьков
5. 6 ноября 1943 г.

Задание 21.

В заданиях 21 — 24 необходимо выполнить сопоставление пунктов из левой части и правой. Возможно сопоставление одного пункта нескольким.

В таблице изображены знаки безопасности.

Определите какие из знаков безопасности относятся к предупреждающим знакам и знакам пожарной безопасности, а какие — только к предупреждающим знакам.

Предупреждающие знаки и знаки пожарной безопасности	

Только предупреждающие знаки




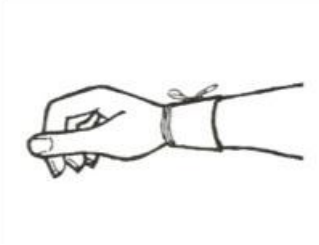

Задание 22.

В таблице изображено стрелковое оружие Вооружённых Сил Российской Федерации. В ответе сопоставьте наименование стрелкового оружия Вооружённых Сил Российской Федерации и калибр, соответствующий этому оружию: 5,45 или 7,62.

 <p>— АК-15</p>	5,45
 <p>— АК-74М</p>	7,62
 <p>— РПК</p>	
 <p>— АК-12</p>	
 <p>— пулемёт «Печенег»</p>	

Задание 23.

Установите соответствие между наименованием повязки и её изображением:

	Циркулярная повязка
	Спиральная повязка с перегибами
	Повязка «Чепец»
	Косыночная повязка
	Працевидная повязка

Задание 24.

Для оценки разрушительной силы смерча разработана специальная шкала.
Установите соответствие класса разрушения описанным повреждениям.

1.	Разрушены ветхие здания в сельских районах, крупные деревья вырваны с корнем и унесены, опрокинуты товарные вагоны, сорваны крыши с домов
2.	Разрушена часть вертикальных стен домов, перевернуты поезда и автомашины, разорваны конструкции со стальной оболочкой (типа ангаров), большинство деревьев в лесу повалено
3.	Каркасы домов целиком повалены, автомобили и поезда отброшены
4.	Сорваны крыши, перевернуты автоприцепы, движущиеся автомобили снесены с дороги, некоторые деревья вырваны с корнем и унесены
5.	Каркасы домов сорваны с фундаментов, железобетонные конструкции сильно повреждены, воздушные потоки поднимали в воздух огромные предметы размером с автомобиль