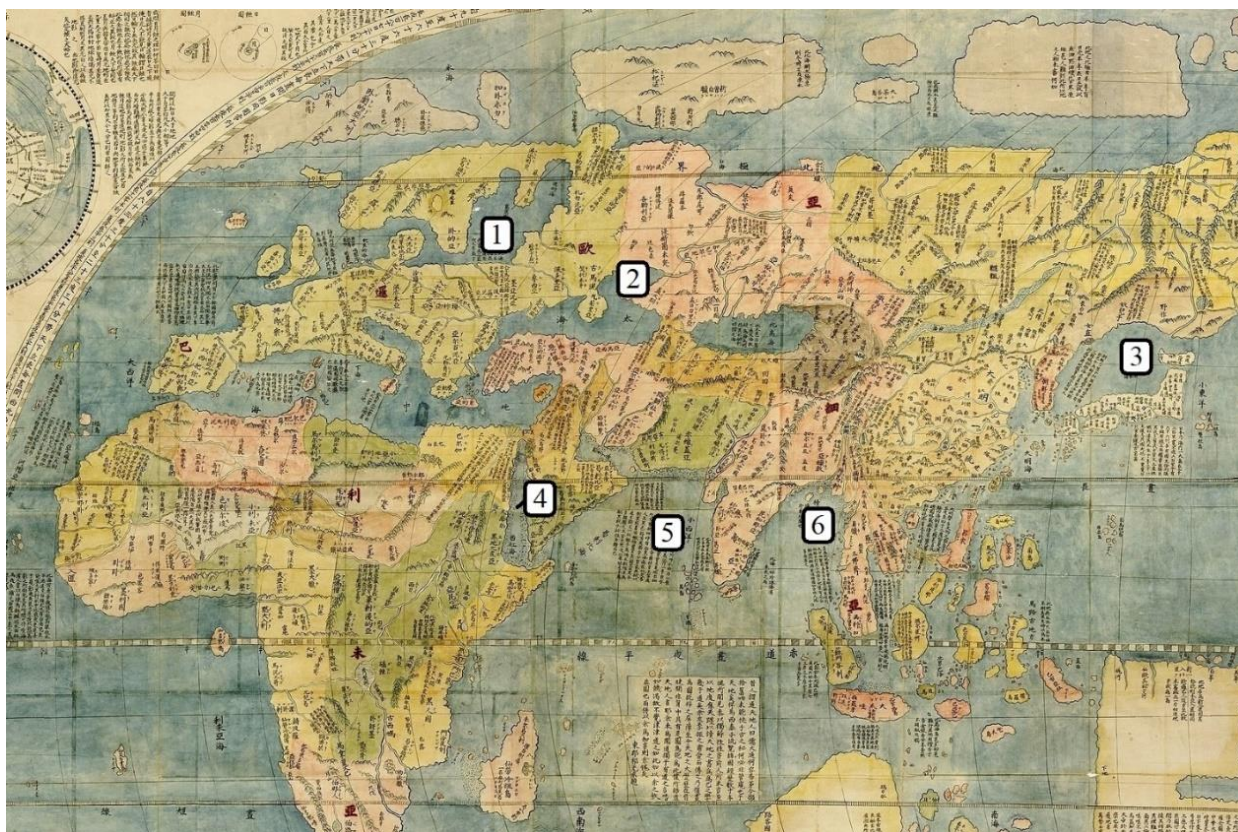


**Задания отборочного этапа Московской олимпиады школьников по географии
2021-2022 учебного года для 7 кл. (1 вариант)**

Задание № 1

Перед Вами фрагмент китайской карты мира, изготовленной в 1602 г. (карта Маттео Риччи), на которой цифровыми индексами обозначены обособленные части Мирового океана. Мы уверены, что вы легко определите пронумерованные водные объекты, учитывая их расположение и очертания на представленной карте. В качестве задания мы предлагаем вам расположить данные объекты **в порядке возрастания их средней глубины**.

Ответ запишите по образцу: 1_4_5_2_6_3



Задание № 2

Укажите архипелаг, происхождение которого связано с деятельностью живых организмов:

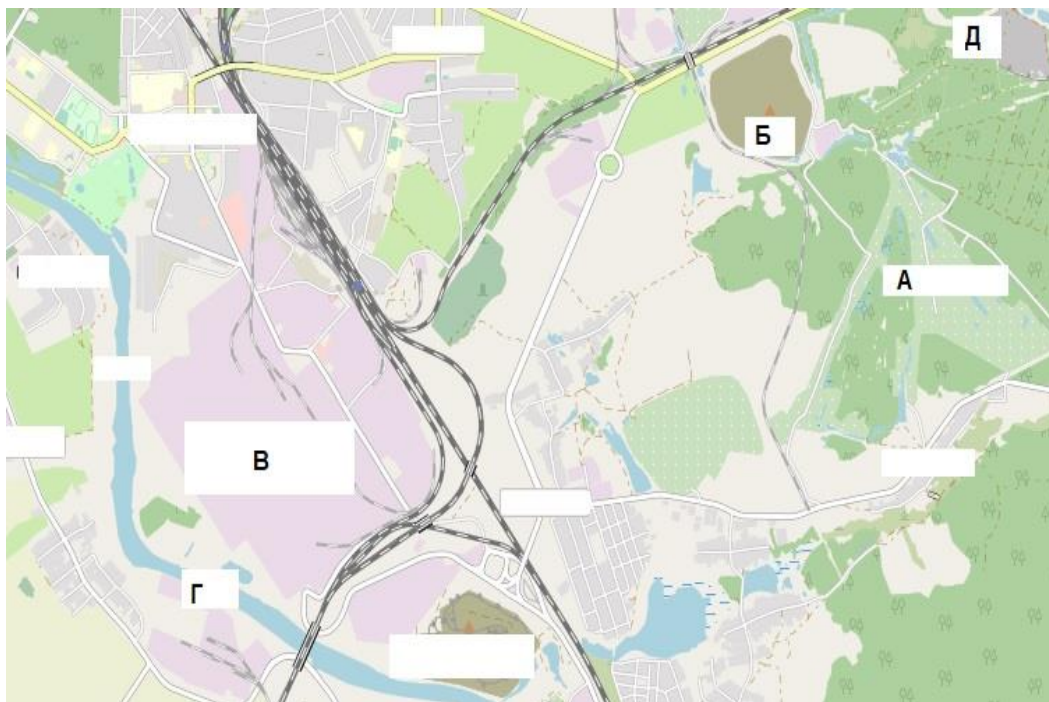
- 1) Земля Франца-Иосифа;
- 2) Филиппинские острова;
- 3) Маршалловы острова;
- 4) Фолклендские (Мальвинские) острова;
- 5) Канарские острова;
- 6) Балеарские острова;
- 7) Новосибирские острова

Задание № 3

Рассмотрите картографическое изображение.

Какие объекты (из списка ниже) соответствуют буквенным индексам «Б», «В», «Г», представленным на данном изображении?

Ответ запишите по образцу: Б-2_В-8_Г-9.



Перечень возможных объектов:

1. пруды, используемые для рыболовства и рыбоводства
2. болота
3. отвалы пустой породы, оставленные после разработки месторождения
4. территория промышленного предприятия
5. название реки и других водных объектов
6. территории бывших карьеров и промышленных предприятий
7. название населенного пункта
8. осушенные земли
9. территория аэродрома
10. территория садоводческого некоммерческого товарищества
11. производственно-складские помещения
12. лесные массивы
13. поля, луга, пашня, пастбища
14. моховая и лишайниковая растительность
15. солончаки

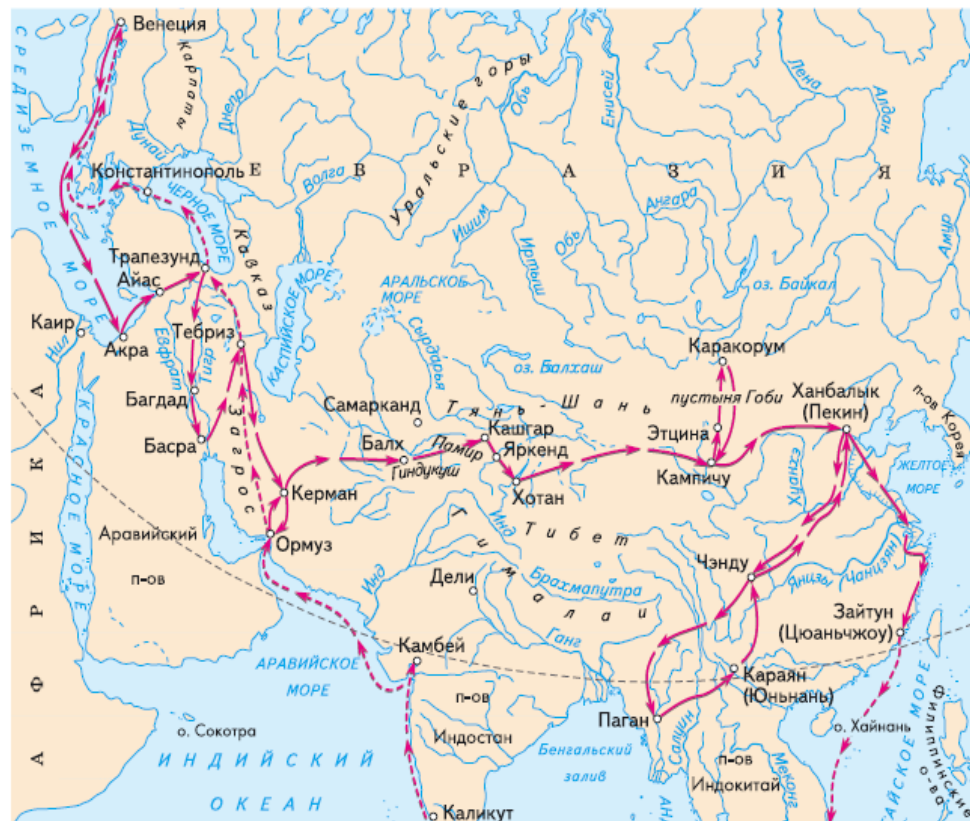
Задание № 4

Выберите номер картосхемы с маршрутами экспедиций выдающегося географа и исследователя. За выдающиеся успехи в изучении одного из регионов императорским указом к его фамилии была добавлена приставка с названием этой природной страны. Ученый был одним из организаторов первого в нашей стране статистического учёта населения.

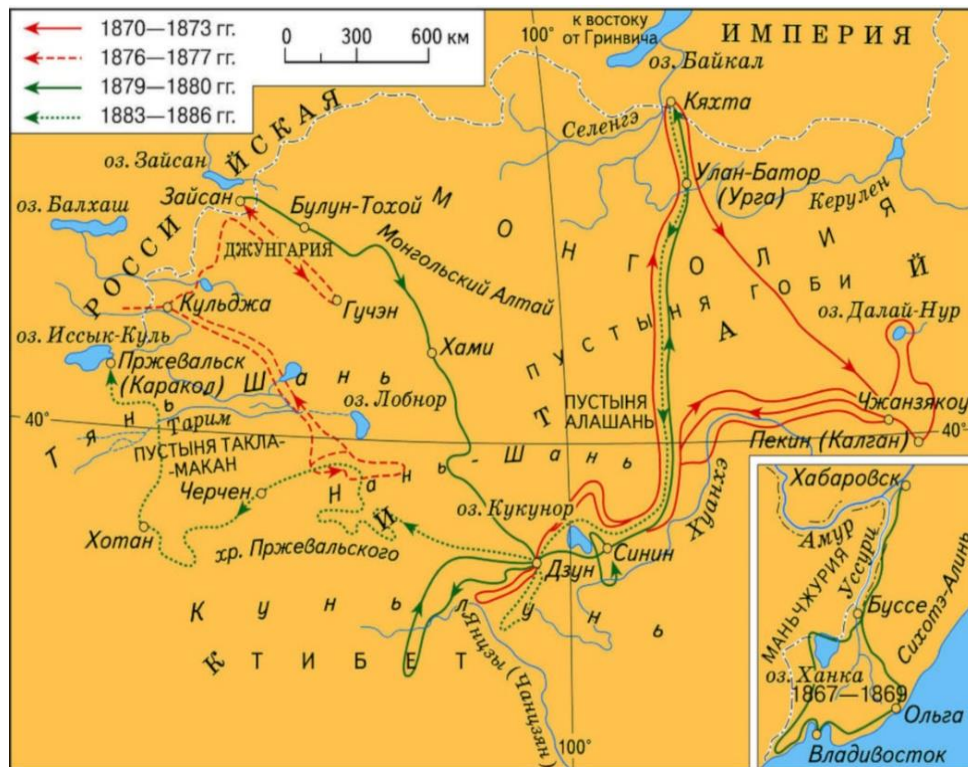
1)



2)



3)



4)



Задание № 5

Под юрисдикцию **какой страны**, расположенной на противоположном по отношению к Гринвичскому меридиану полушарии, попадает территория / акватория со следующими географическими координатами: $9^{\circ}10'$ ю. ш. $171^{\circ}50'$ з. д.? Укажите название страны.

Задание № 6

Укажите часть света, получившую своё название в честь флорентийского путешественника. Найдите животных, обитающих на её территории.

Внимание! Если вы неверно указали часть света, то всё задание не оценивается.

Ответ запишите по образцу: Африка_2_3.



Задание № 7

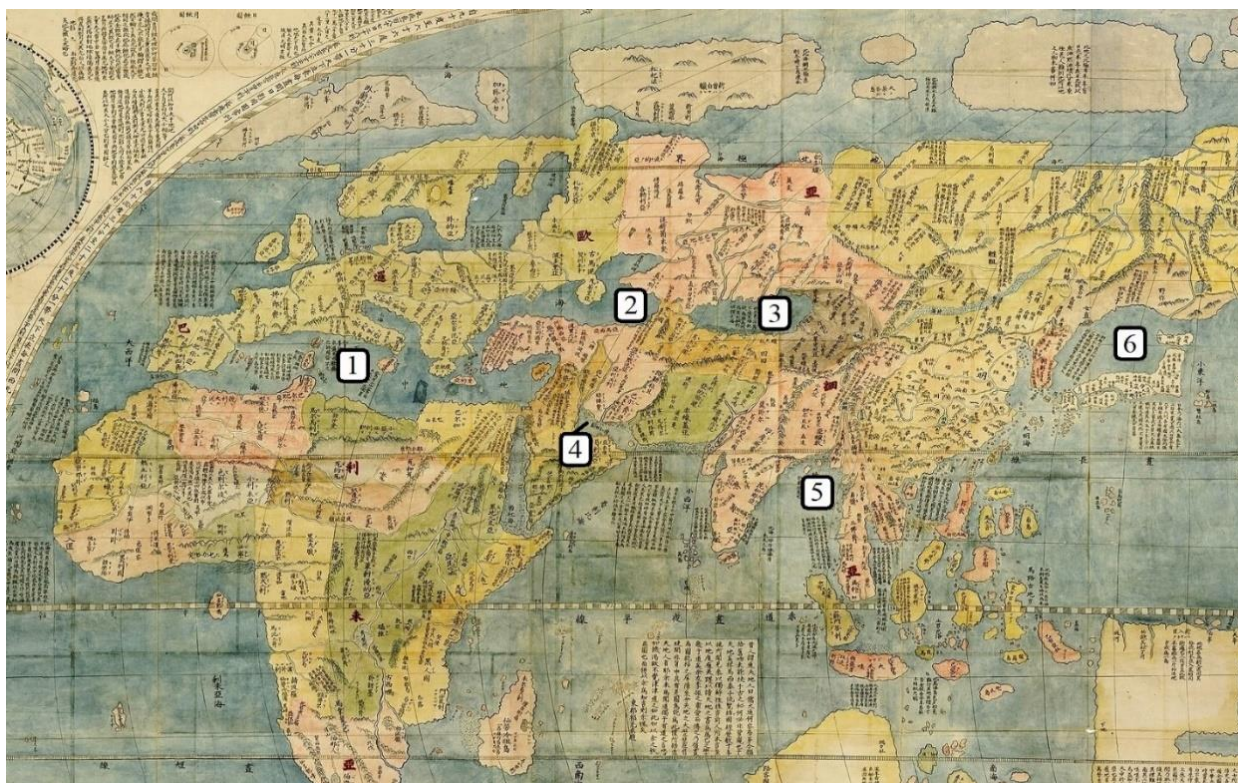
Укажите название крайней точки одного из материков, если о районе, в котором она расположена известно, что в тектоническом отношении — это область альпийской складчатости, а в природно-зональном — часть ареала субтропических лесов и кустарников.

**Задания отборочного этапа Московской олимпиады школьников по географии
2021-2022 учебного года для 7 кл. (2 вариант)**

Задание № 1

Перед Вами фрагмент китайской карты мира, изготовленной в 1602 г. (карта Маттео Риччи), на которой цифровыми индексами обозначены обособленные части Мирового океана. Мы уверены, что вы легко определите пронумерованные водные объекты, учитывая их расположение и очертания на представленной карте. В качестве задания мы предлагаем вам расположить данные объекты **в порядке возрастания их средней глубины**.

Ответ запишите по образцу: 1_4_5_2_6_3



Задание № 2

Укажите архипелаг, происхождение которого связано с деятельностью живых организмов:

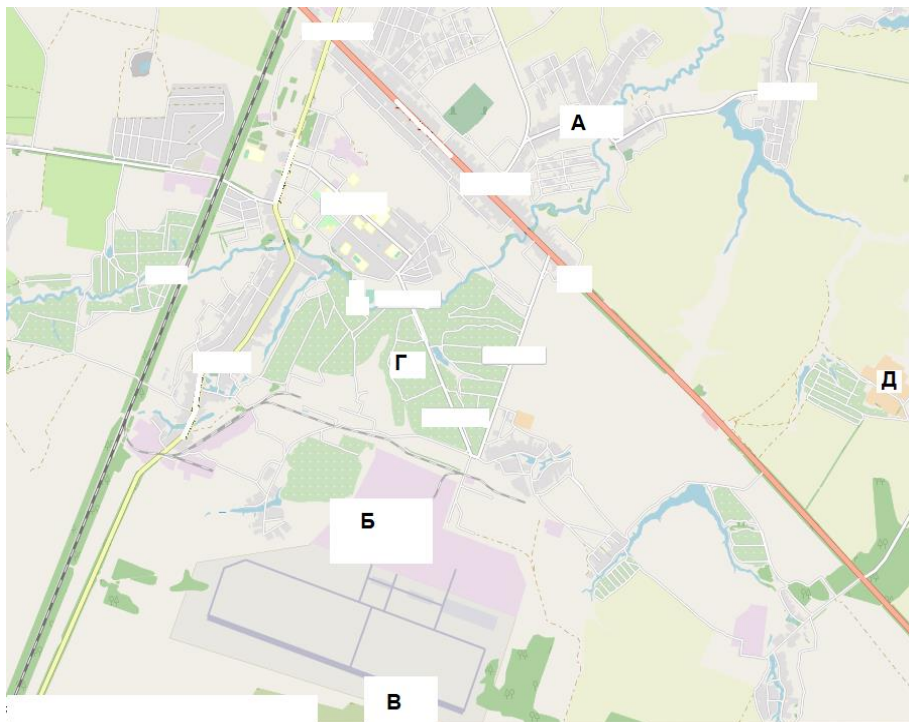
- 1) Острова Туамоту;
- 2) Новая Земля;
- 3) Зондские острова;
- 4) Новосибирские острова;
- 5) Алеутские острова;
- 6) Шпицберген;
- 7) Филиппинские острова;
- 8) Коморские острова

Задание № 3

Рассмотрите картографическое изображение.

Какие объекты (из списка ниже) соответствуют буквенным индексам «А», «Б», «Г», представленным на данном изображении?

Ответ запишите по образцу: А-2_Б-3_Г-5.



Перечень возможных объектов:

1. пруды, используемые для рыболовства и рыбоводства
2. болота
3. отвалы пустой породы, оставленные после разработки месторождения
4. территория промышленного предприятия
5. название реки и других водных объектов
6. территории бывших карьеров и промышленных предприятий
7. название населенного пункта
8. осушенные земли
9. территория аэродрома
10. территория садоводческого некоммерческого товарищества
11. производственно-складские помещения
12. лесные массивы
13. поля, луга, пашня, пастбища
14. моховая и лишайниковая растительность
15. солончаки

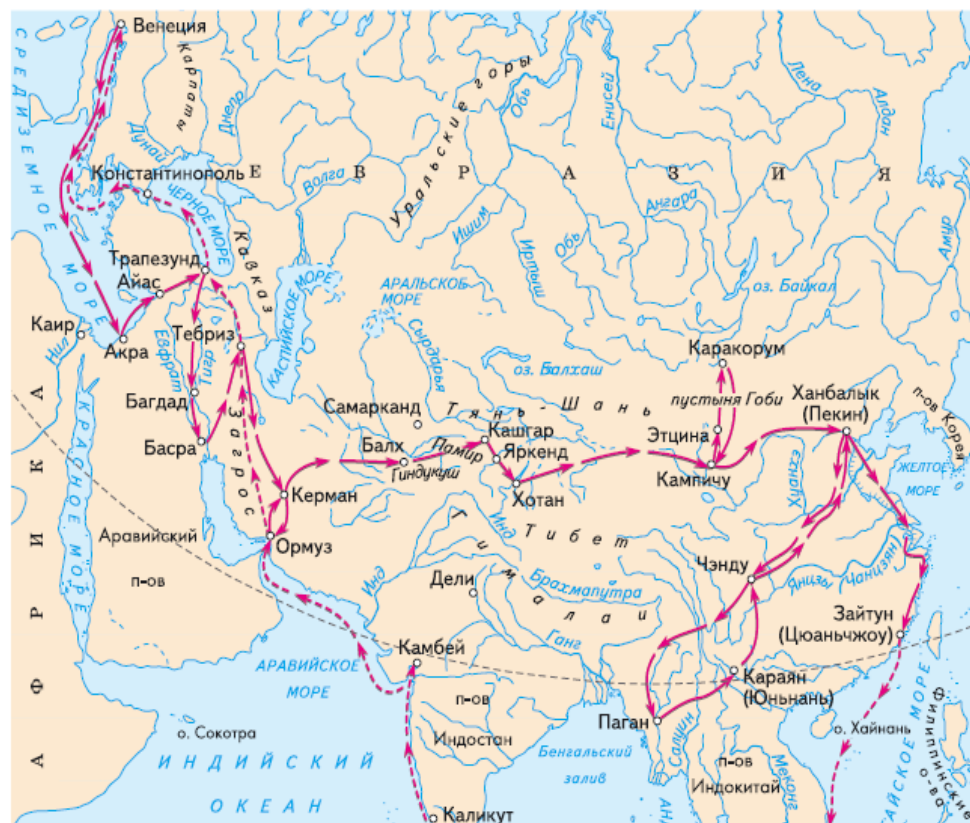
Задание № 4

Выберите номер картосхемы с маршрутами экспедиций выдающегося отечественного географа и путешественника, проводившего свои исследования в обширном субрегионе, значительная часть которого относится к области внутреннего стока. В честь исследователя названы горные хребты и горные вершины в районе его исследования, а также один из подвидов травоядного млекопитающего.

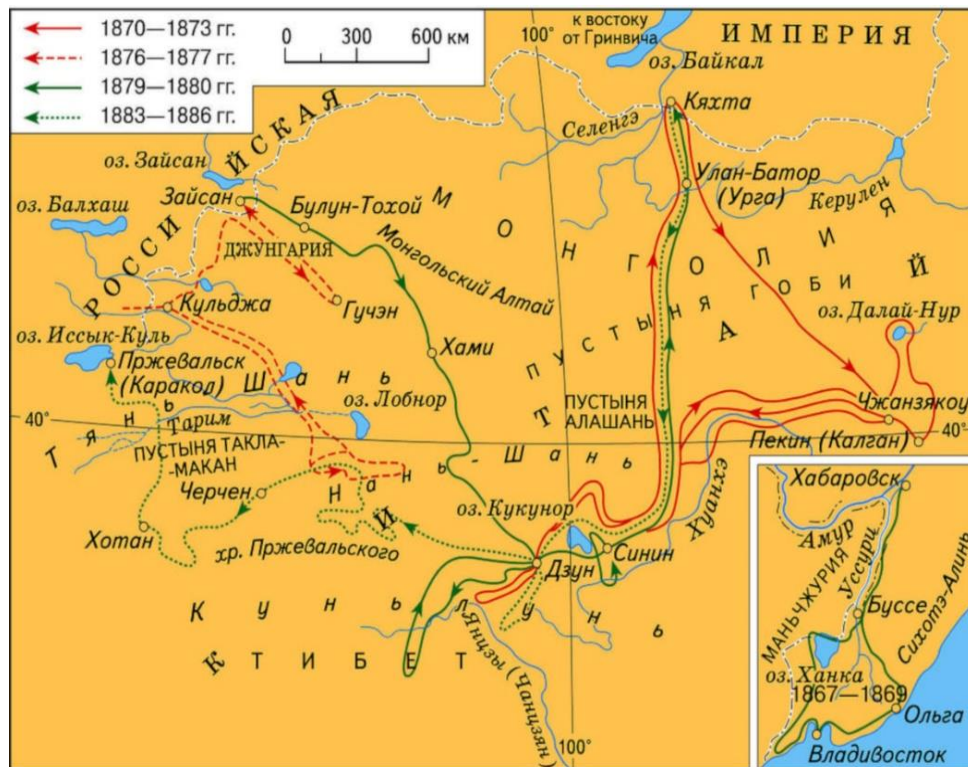
1)



2)



3)



4)



Задание № 5

Под юрисдикцию **какой страны**, расположенной на противоположном по отношению к экватору полушарии, попадает территория / акватория со следующими географическими координатами: $27^{\circ}53'$ ю. ш. $143^{\circ}30'$ з. д.? Укажите название страны.

Задание № 6

Укажите часть света, получившую своё название в честь флорентийского путешественника. Найдите животных, обитающих на её территории.

Внимание! Если вы неверно указали часть света, то всё задание не оценивается.

Ответ запишите по образцу: Африка_1_4.



Задание № 7

Укажите название крайней точки одного из материков, если о районе, в котором она расположена известно, что в тектоническом отношении — это область герцинской складчатости, а в природно-зональном — часть ареала субтропических лесов и кустарников.