


# Московская олимпиада школьников. История. 9 класс. Отборочный этап, 2022/23

15 дек 2022 г., 10:00 — 10 янв 2023 г., 23:59

1 балл

Согласно легенде, во времена наполеоновских войн в одном из французских эскадронов сложилась традиция ходить в атаку на русские позиции с криком «О ша!», который был ответом на русское «Ура!». Причиной такому «ответу» было созвучие русского «Ура!» и французского «Au rat!» – «О ра!», что переводится как «На крысу!». Определите, что же означал французский боевой клич в переводе на русский язык, и выберите изображение, связанное с этим животным.



○



○



3 балла

Рассмотрите карикатуру и выберите верные суждения.



- События, высмеиваемые в карикатуре, произошли в 1907 г.
- Текст карикатуры приводится в дореволюционной орфографии.
- В карикатуре подписание манифеста изображается навязанным решением.
- Один из изображённых на карикатуре деятелей непосредственно участвовал в установлении золотого стандарта российского рубля.
- В результате событий, изображённых на карикатуре, в России были учреждены суды присяжных.
- Манифест, который подписывает один из героев карикатуры, получил прозвище «ананасный манифест».

1 балл

Выберите иллюстрацию, на которой изображены события, произошедшие в том же году, что и на приведённой карикатуре.



○



○



2 балла

Прочитайте фрагмент исследования, посвящённого одной из крупных научных теорий, возникшей в XVIII в.

Большую роль в процессе формирования интереса русского общества XIX века к родной истории сыграла «История государства Российского» Н.М. Карамзина. А.С. Пушкин писал: «Все, даже светские женщины, бросались читать историю своего отечества, дотоле им неизвестную. Она была для них новым открытием. Древняя Россия, казалось, найдена Карамзиным, как Америка — Колумбом. Несколько времени ни о чём ином не говорили». Это грандиозное по своей масштабности и стилю произведение тем не менее сыграло не только положительную роль. Дело в том, что Н.М. Карамзин своим авторитетом утвердил в нём и в сознании русского общества норманнскую концепцию происхождения Русского государства, ставшую на долгие десятилетия основой для понимания начала процесса политогенеза и специфики влияния Европы на Россию: ведь именно Европа подарила нам государство и обеспечила всем необходимым для эволюционного развития.

Н.М. Карамзин на вопрос: «Какой же народ назывался русью?» отвечал, что основатели государства обитали в королевстве шведском, где одна приморская область издавна именуется Roslagen. К тому же финны называли жителей этой области ротсами (руотси). Находясь под бесспорным влиянием А. Шлёцера, он, вслед за ним, утверждал, что с норманна начинается собственно русская история, а до его этого восточные славяне жили разрозненно, ничего стоящего не совершали и в мировой истории никак себя не обозначили.

Выберите летописный отрывок, в котором описаны события, давшие основания для рассуждений, представленных во фрагменте.

Изгнали варяг за море, и не дали им дани, и начали сами собой владеть, и не было среди них правды, и встал род на род, и была у них усобица, и стали воевать друг с другом. И сказали себе: "Поищем себе князя, который бы владел нами и судил по праву". И пошли за море к варягам, к руси. Те варяги назывались русью, как другие называются шведы, а иные норманны и англы, а ещё иные готландцы, — вот так и эти. Сказали руси чудь, словене, кривичи и весь: "Земля наша велика и обильна, а порядка в ней нет. Приходите княжить и владеть нами".

Когда же Аскольд и Дир пришли, выскочили все остальные из ладей, и сказал Олег Аскольду и Диру: "Не князья вы и не княжеского рода, но я княжеского рода", и показал Игоря: "А это сын Рюрика". И убили Аскольда и Дира, отнесли на гору и погребли Аскольда на горе, которая называется ныне Угорской, где теперь Ольмин двор; на той могиле Ольма поставил церковь святого Николы; а Динова могила — за церковью святой Ирины. И сел Олег, княжа, в Киеве, и сказал Олег: "Да будет это мать городам русским".

Был вокруг города лес и бор велик, и ловили там зверей, а были те мужи мудры и смыслены, и назывались они полянами, от них поляне и донине в Киеве. Некоторые же, не зная, говорят, что Кий был перевозчиком; был-де тогда у Киева перевоз с той стороны Днепра, отчего и говорили: "На перевоз на Киев". Если бы был Кий перевозчиком, то не ходил бы к Царьграду; а этот Кий княжил в роде своём, и когда ходил он к царю, то, говорят, что великих почестей удостоился от царя, к которому он приходил. Когда же возвращался, пришёл он к Дунаю, и облюбывал место, и срубил городок невеликий, и хотел сесть в нём со своим родом, да не дали ему

живущие окрест; так и донине называют придунайские жители городище то – Киевец. Кий же, вернувшись в свой город Киев, тут и умер; и братья его Щек и Хорив и сестра их Лыбедь тут же скончались.

○ И сказал Олег: "Сшейте для руси паруса из паволок, а славянам шёлковые", и было так. И повесили щиты свои на воротах в знак победы, и пошёл от города. И подняла русь паруса из паволок, а славяне шёлковые, и разодрал их ветер. И сказали славяне: "Возьмём свои толстины, не даны, знать, славянам паруса шёлковые". И вернулся Олег в Киев, неся золото и паволоки, и плоды, и вино, и всякое узорочье. И прозвали Олега Вещим, так как были люди язычниками и непросвещенными

○ Когда Борис уже возвратился с войском назад, не найдя печенегов, пришла к нему весть: "Отец у тебя умер". И плакался по отце горько, потому что любим был отцом больше всех, и остановился, дойдя до Альты. Сказала же ему дружина отцовская: "Вот у тебя отцовская дружина и войско. Пойди, сядь в Киеве на отцовском столе".



1 балл

Выберите портрет исторического деятеля, выступавшего одним из главных противников теории, упомянутой в тексте.



○



○



Выберите отрывки из исторических исследований, в которых поддерживается та же позиция, что и в приведённом выше фрагменте.

Советская историческая наука, следуя указаниям Маркса, Энгельса, Ленина, Сталина, положив в основу замечания товарищей Сталина, Кирова и Жданова на «Конспект учебника по истории СССР», разработала теорию о дофеодальном периоде как периоде зарождения феодализма и о варварском государстве, возникающем в это время, и приложила эту теорию к конкретным материалам истории русского государства. Таким образом, уже в теоретических построениях основоположников марксизма-ленинизма нет и не может быть места чужестранцам как создателям государства среди «диких» восточнославянских племён.

Сегодня кажутся наивными выводы историка, но обвинять его в антиисторизме – абсурд. Да, он искренне хотел доказать, что тот был выходцем из славян. Именно так ему виделась логика событий русской древности. Признаюсь, мне лично она тоже симпатична. Что не означает, что кто-то имеет право объявить лжеучёными всех сторонников теории. У них свои аргументы. У Рыбакова, Скрынникова, Забелина – другие. У Сигизмунда Герберштейна – свои.

О том сомнения нет, по сказаниям писателей, что он пришёл в 862 году по Рождестве Христовом. Все северные писатели скажут, что русы на севере чрез море Балтийское (которое русы называли Варяжское море) в Данию, Швецию и Норвегию ездили за торгами. Полуденные историки скажут о русах, что издревле морем с торгом в Индию, Сирию и до Египта ездили. Закон, или Уложение древнее русское, довольно древность письма в Руси доказывает. Русы давно письмо имели.

Её сторонники стремятся отстоять позиции по отдельным вопросам: о составе господствующего класса в Древней Руси, о происхождении крупного землевладения на Руси, о торговле и торговых путях Древней Руси, об археологических памятниках древнерусской культуры и др., в каждом из которых они считают иностранный элемент решающим, определяющим. Современные сторонники этой теории также утверждают, что имела место колонизация Руси и что скандинавские колонии послужили основой для установления господства норманнов.

Бояре Славянские, недовольные властью завоевателей, которая уничтожала их собственную, возмутили, может быть, сей народ легкомысленный, обольстили его именем прежней независимости, вооружили против и выгнали их; но распрями личными обратили свободу в несчастье, не умели восстановить древних законов и ввергнули отечество в бездну зол междоусобия. Тогда граждане вспомнили, может быть, о выгодном и спокойном правлении: нужда в благоустройстве и тишине велела забыть народную гордость, и Славяне, убеждённые – так говорит предание – советом Новгородского старейшины Гостомысла, потребовали Властителей.

В 1925 г. известный историк и археолог Ю. В. Готье в труде «Очерки по истории материальной культуры Восточной Европы до основания первого русского государства», призывая обобщать археологический материал и шире привлекать его для исторических построений, вёл речь о «славяно-норманнском» государстве в Восточной Европе, «которое затем с неизбежными, сменяющимися друг друга периодами процветания и упадка существует до наших дней». Полагая, что «по отношению к норманнам должен быть возбуждён и поставлен вопрос: как освещает археологический материал их роль и значение в деле строительства первоначального русского государства?»

Историк М. А. Максимович однажды в споре с М. П. Погодиным заметил, что до исхода XVIII в. никто из русских не считал своими предками скандинавских немцев. Этот важный, хотя мало принимаемый во внимание, аргумент подкрепляется таким хранителем народной памяти, как эпос. Дунай, Днестр, Непра-река, Волхов-батюшка, Са-рога-матушка, Пучай-река — среди названий рек русского эпоса нет ни одного скандинавского.

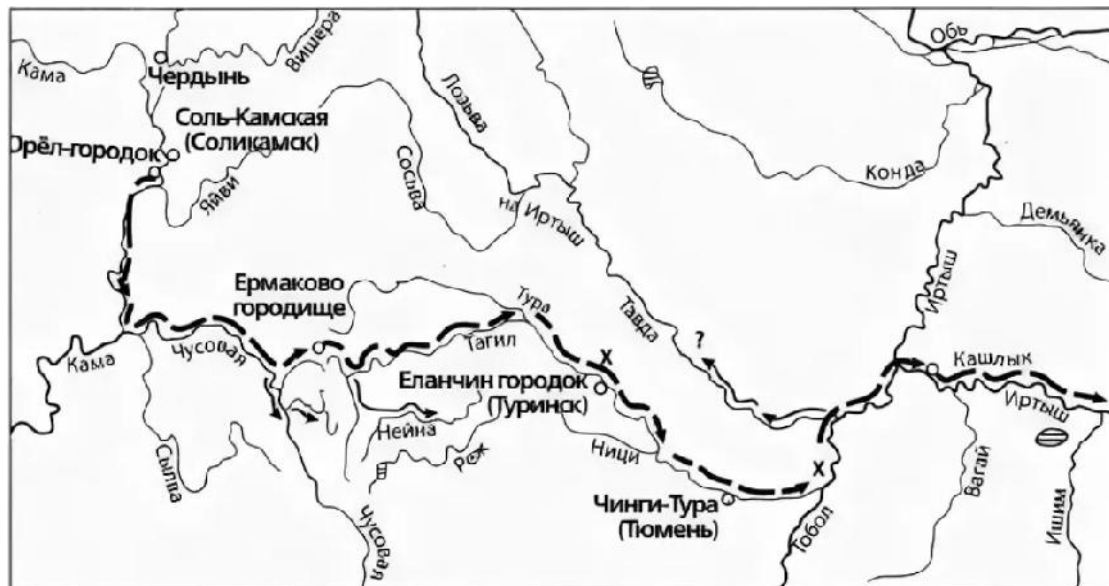
10 баллов

Перед вами изображения памятных монет.

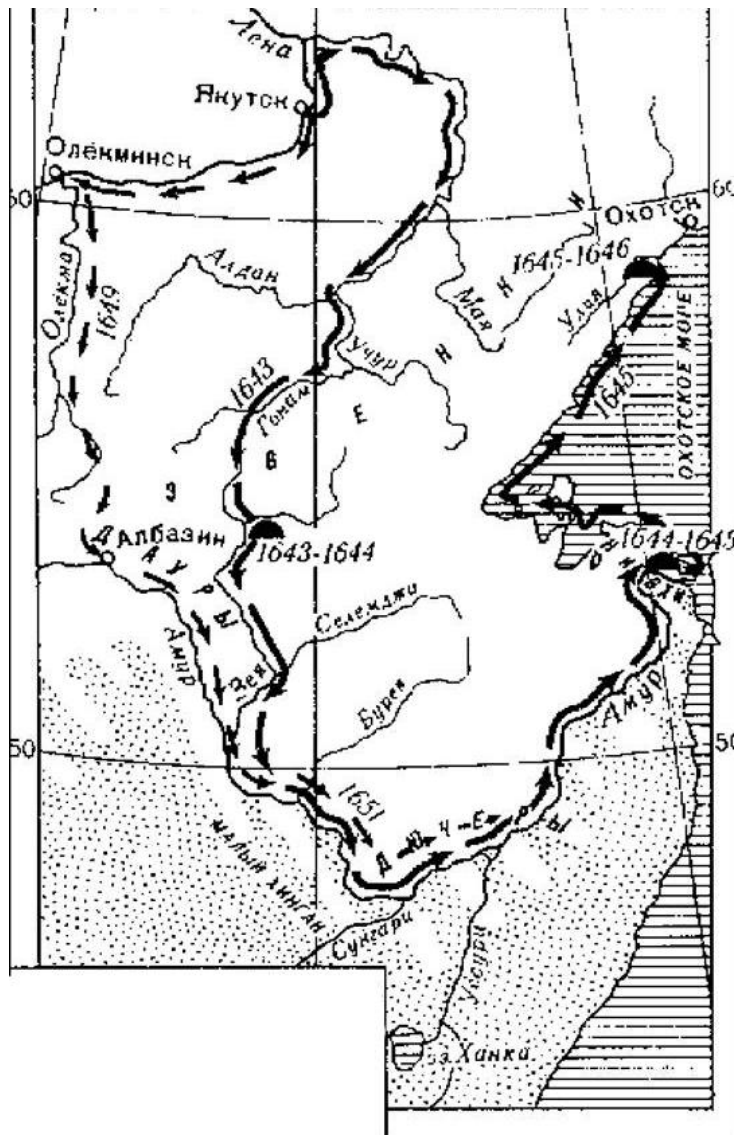


Ниже представлены схемы маршрутов путешествий известных русских первопроходцев и путешественников.

А

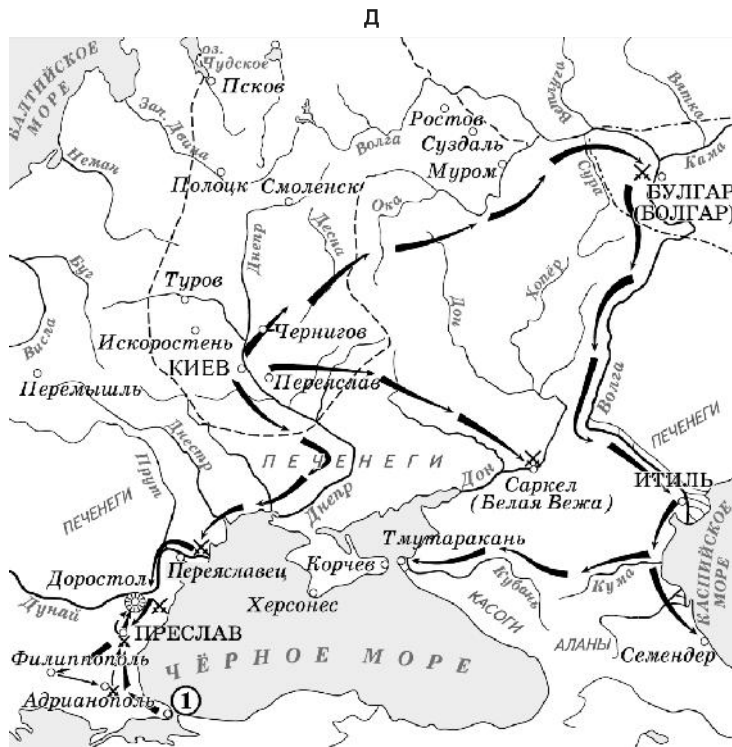
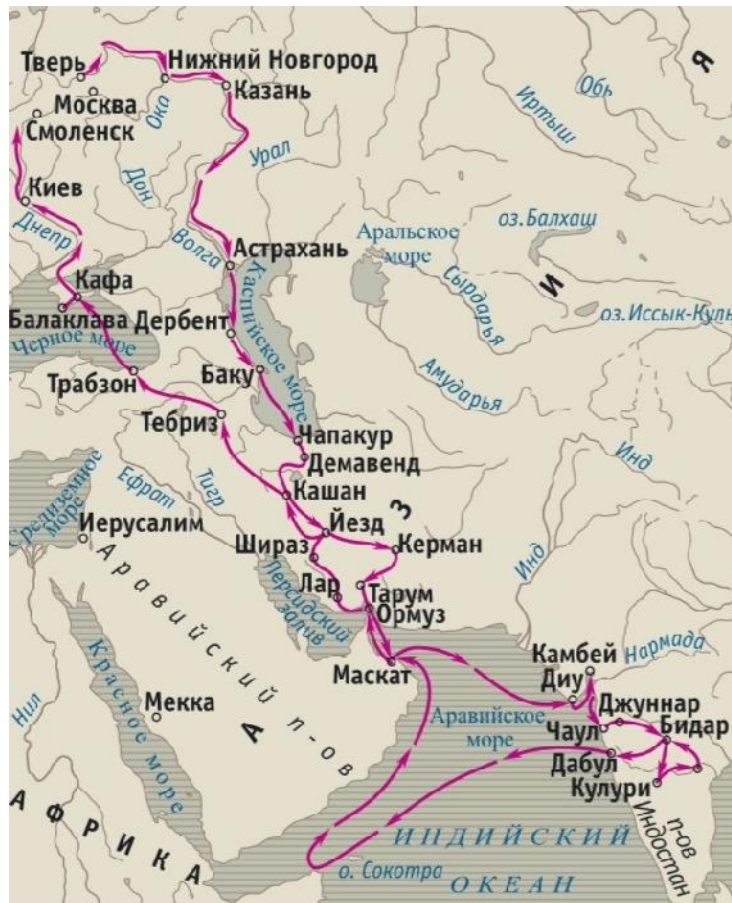


Б



В







Соотнесите монеты со схемами их путешествий. Обратите внимание, что среди схем есть лишние.



А



Б

В





Г



Д



Е

2 балла

Выберите буквенное обозначение схемы, связанной с событием, которому посвящён приведённый отрывок.

Уже по Русской земле разнеслось веселье и ликование. Преодолела слава русская хулу поганых. Уже низвергнут Див на землю, а гроза и слава великого князя Дмитрия Ивановича и брата его, князя Владимира Андреевича, по всем землям пронеслись. Стреляй, князь великий, по всем землям, рази, князь великий, со своей храброй дружиной поганого \_\_\_\_\_ за землю Русскую, за веру христианскую. Уже поганые оружие своё побросали, а головы свои склонили под мечи русские. И трубы их не трубят, и приуныли голоса их.

А

Б

В

Г

Д

Е

Укажите монету с изображением исторического деятеля, события из жизни которого отражены в одном из фрагментов исторических источников.

1. Пошёл Олег на греков, оставив Игоря в Киеве; взял же с собою множество варягов, и славян, и чуди, и кривичей, и мерю, и полян, и северян, и древлян, и радимичей, и хорватов, и дулебов, и тиверцев, известных как толмачи: этих всех называли «Великая скифь». И с этими всеми пошёл Олег на конях и в кораблях; и было кораблей числом две тысячи. И пришёл к Царьграду; греки же замкнули Суд, а город затворили... И повелел Олег своим воинам сделать колёса и поставить на колёса корабли.

2. Сотворив же мир с греками и пошёл в ладьях к порогам. И сказал ему воевода отца Свенельд: «Пойди, князь, на конях около, стоят ибо печенеги в порогах». И не послушал его, и пошёл в ладьях. И послали переславцы к печенегам, говоря: «Идёт он на Русь, взял богатства много у греков и полон бесчисленный, с малой дружиной». Услышав же печенеги это, заступили пороги; и стал зимовать в Белобережье.

3. По моём возвращении упомянутый господин кардинал при мне просил императора не выслушивать меня о моём деле иначе, как только в его присутствии; так и было сделано. Но после кончины императора Максимилиана я был ещё раз отправлен в те края нынешним римским королём и моим всемилостивейшим господином Фердинандом, причём мне было особо поручено и наказано вместе с послом Его императорского величества графом Леонардом Нугарола (Nugarolis) разузнать религиозные обряды и прочие нравы и обычаи народа.

4. В ближайшее воскресенье опять показалась Полярная звезда, которой мы не видели очень давно, а в пятницу, 17 мая, после 23 дней безбрежного моря, мы увидели землю..., а затем подошли и к городу Каликуту... Послал наш командор одного человека в город, а там его привели к двум маврам из Туниса, которые говорили и по-кастильски, и по-генуэзски. Затем они его угостили пшеничными лепёшками с мёдом, а потом проводили на корабль. Как только один из этих мавров взошёл на корабль, он воскликнул: "Добро пожаловать! Добро пожаловать!"

5. Назарет же представляет собой маленький городок в горах на низком месте, так что, только оказавшись над ним, можно его увидеть. Посреди городка того церковь выстроена большая и высокая о трёх алтарях. И когдаходишь в ту церковь, по левую руку как бы пещерка маленькая глубокая перед малым алтарём. Две двери маленькие у пещеры той: одни двери с запада, а другие — с востока. Вход в ту пещеру по ступенькам в обе те двери. Когдаходишь в пещеру ту западными дверями, по правую руку — келия, выстроенная с маленькими дверьми: в той келейке жила святая Богородица со Христом, здесь вскормлен был Христос, в святом том помещенице; тут и ложице его, на котором лежал Иисус, — тут, в келейке той. Ложице его сделано так низко на земле.

6. В том же году, 5 августа, пришли какие-то гонцы от бухарских купцов к атаману и казакам, и сообщили им, что идут к ним купцы бухарские с разными бухарскими товарами, а царевич Алей, Кучумов сын, дескать, их не пропустит.

Казак же, обдумав и посоветовавшись со своими атаманами и казаками, пошёл с небольшим отрядом навстречу вверх по реке Иртышу и, дойдя до Вагая, бухарцев не обнаружил. Но прошёл к урочищу, называемому Атбаш, и возвратился оттуда.





Выберите изображения, связанные с историческими деятелями, события из жизни которых отражены во фрагментах исторических источников из предыдущего задания.





6 баллов

Рассмотрите схему и выполните задания.



Выберите верные утверждения.

- События, отражённые на схеме, произошли в годы правления двух российских императоров.
- Союзницей России в войне была Австрийская империя.
- В период событий, обозначенных на схеме, был захвачен Новороссийск.
- Участником событий, отражённых на схеме, был автор романа «Анна Каренина».
- В период войны, события которой отражены на схеме, российскими войсками был занят Бухарест.
- В ходе сражения, обозначенного на схеме цифрой 2, русский флот потерпел сокрушительное поражение.
- Штриховкой на схеме обозначены территории, утраченные Россией по итогам войны.
- Среди противников России в войне, события которой отражены на схеме, было государство, провозглашённое империей менее чем за 2 года до начала войны.

На схеме обозначен город, в котором был заключён мирный договор по итогам войны, события которой отражены на схеме.

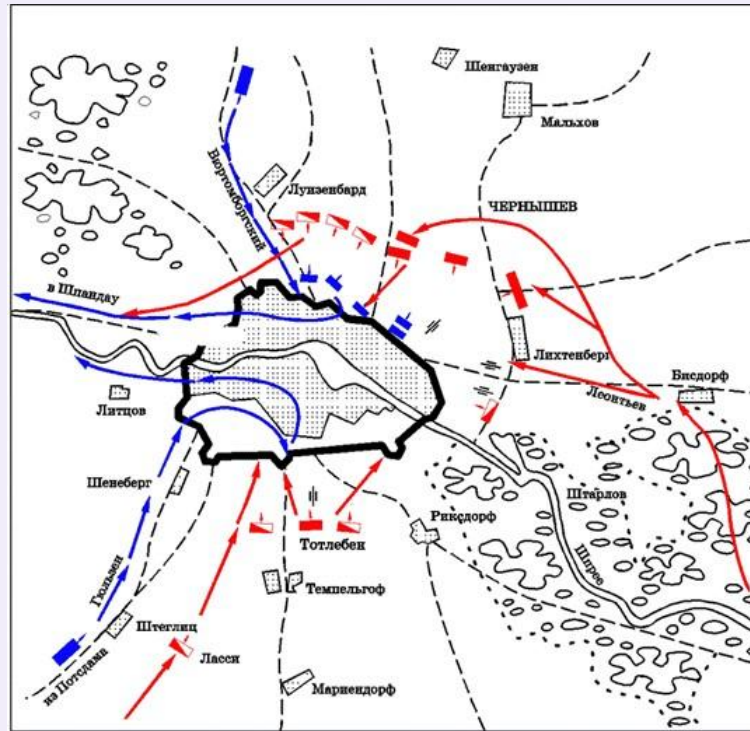
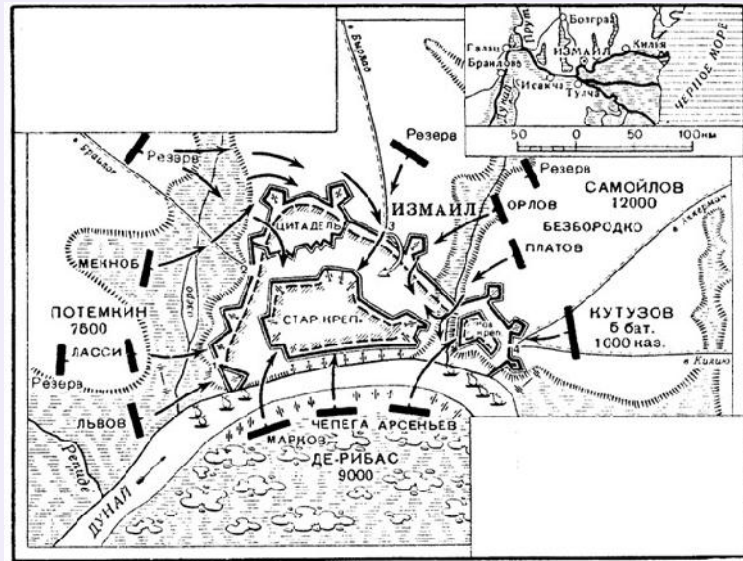
Часть территорий, обозначенных на схеме, имела статус автономий в составе одного из государств-участников войны, события которой отражены на схеме.

Современником событий, отражённых на схеме, был поэт Дж. Байрон.

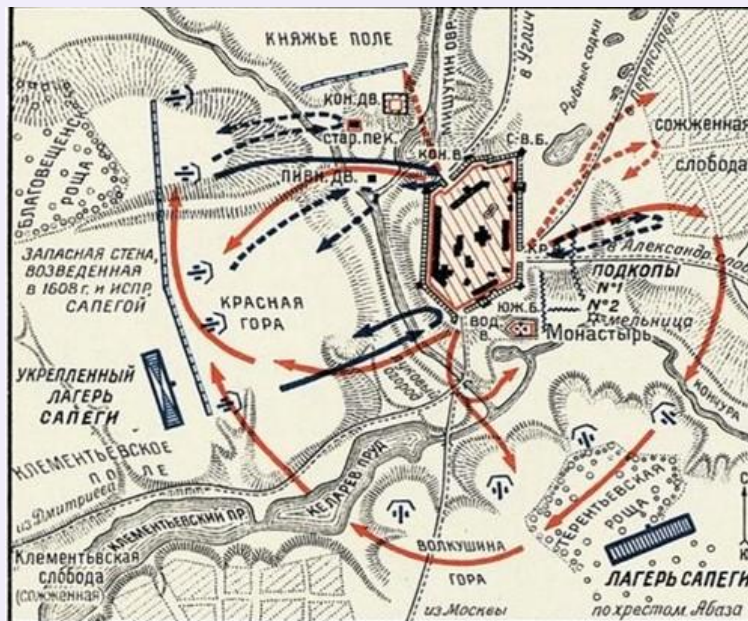
Цифрой 4 на схеме обозначена крепость, захваченная русскими войсками в годы войны, события которой отражены на схеме.



Выберите изображение, связанное с одним из эпизодов войны, отражённой на схеме выше.







2 балла

Выберите герб государства, обозначенного на схеме цифрой I.

[Открыть изображение в отдельном окне](#)



6 баллов

Прочитайте текст и выполните задания.

Лета 7109 июля в 1 день, по государеву царёву и великого князя Бориса Фёдоровича всеа Русии указу, память сотнику стрелецкому Ивану Некрасову. Ехати ему в Яранской город для того: послан с ним в Яранской на житьё Василей Никитич Романов, а брата его Фёдора Никитича на житие в Сийский монастырь, и Ивану, едучи в Яранской, везти дорогою Василья бережно, чтоб он с дороги не утёк и лиха некоторого над собою не учинил; и того беречи, чтоб к нему на дороге и на станех никто не приходил, и не розговаривал ни о чём, и грамоты с ним никто не сослался; а кто придёт к Василью и учнёт о чём розговаривать или принесёт какое письмо, и Ивану того человека с письмом поймав прислать или роспрося отписать к государю царю и великому князю Борису Фёдоровичу всеа Русии, к Москве; а кто доведётся до пытки, и тех и пытать и роспрашивать подлинно. А в Яранской приехав занять себе и для Василья двор в городе, чтоб от церкви, и от Съезжей избы, и от жилецких дворов подале; а будет такого двора нет, и Ивану, присмотря место, велеть двор поставить, чтоб не близко жилецких дворов и дороги бы мимо двор прохожия не было; а на дворе велеть поставить хором, две избы, да сени, да клеть, да погреб, и около двора городба. И быти Ивану с Васильем в Яранском до государева царёва и великого князя Бориса Фёдоровича всеа Русии указу, и береженье к Василью держати по сему наказу, и с двора Василья и детины его спущать никуды не велеть, и того беречи накрепко, чтоб к Василью и к человеку его никто не подходил, и не розговаривал с ним ни о чём, и писма какого не поднёс, и не сходился с ним никто; а кто учнёт подходить к Василью или к человеку его, или какое письмо принесут, или учнут ссылаться с ним братья его или иные какие люди, и Ивану тех людей имая присылать ко государю царю и великому князю Борису Фёдоровичу всеа Русии, к Москве. А корму Василью давать с человеком: по колачу да по два хлеба денежных, да в мясные дни по две части говядины да по части боранины, а в рыбные дни по два блюда рыбы, какова где лучится, да квас житной; а на корм послано с ним сто рублёв денег.

Выберите верные утверждения.

- Система летоисчисления, упомянутая в тексте, перестала быть актуальной менее чем через 100 лет после появления приведённого текста.
- Источник, фрагмент которого приведён, относится к жанру житийной литературы.
- В тексте источника упоминается опасность побега Василя.
- Автор источника – представитель духовного сословия.
- События, описанные в тексте, относятся к периоду так называемой «Великой замятни».
- В соответствии с указом, предписывалось размещение Василя в отдалении от любых построек.
- Упомянутый в тексте Василий в будущем будет избран на царство.

Согласно тексту, допускается применение пыток к Василию в случае необходимости.

Современником событий, упомянутых в тексте, был Фёдор Иоаннович.

В тексте упоминается термин, означающий командира воинского подразделения.

В тексте упоминаются денежные расходы на содержание Василия.

В тексте упоминается исторический деятель, который будет «наречён патриархом».

1 балл

Выберите иллюстрация(-ю), связанные с событиями, в которых лично принимал участие сын упомянутого в тексте брата Василия.





4 балла

Перед вами описания советских медалей, награждения которыми происходили в годы Великой Отечественной войны.

Соотнесите приведённые описания с названиями медалей, которым они посвящены. Обратите внимание, что среди названий есть лишние.

В борьбе с врагом в этой страшной войне отдали свои жизни миллионы советских людей. Сотни памятников, тысячи намогильных обелисков напоминают о подвигах и неисчислимых жертвах, которые принёс наш народ на алтарь Победы. Для того чтобы увековечить память о великой победе нашего народа, о её героях и их подвигах, 9 мая 1945 г. Указом Президиума Верховного Совета СССР была учреждена медаль. В честь победителей 24 июня 1945 г. в Москве на Красной площади состоялся Парад Победы. Лица, награжденные медалью, в дальнейшем имели право на награждение юбилейными медалями: «Двадцать лет победы в Великой Отечественной войне 1941–1945 гг.», «Тридцать лет Победы...» ... Медаль изготавливалась из латуни в виде правильного круга, окаймленного бортиком с лицевой и обратной сторон. На лицевой стороне медали – барельеф с подгрудным профильным изображением И. В. Сталина в форме Маршала Советского Союза.

Первоначально медаль имела штифтовое крепление на подвесной прямоугольной колодочке, обтянутой лентой красного цвета, после 1943 г. медаль стали крепить при помощи ушка к пятиугольной колодке, обтянутой шёлковой муаровой лентой серого цвета с двумя узкими синими продольными полосами по краям. Медаль считалась высшей советской медалью, её полагалось носить перед всеми остальными. Согласно Положению Награждение медалью производится за личное мужество и отвагу, проявленные: в боях с врагами социалистического Отечества; при защите государственной границы СССР; при исполнении воинского долга в условиях,

Медаль «За отвагу»

Медаль Ушакова

Медаль Материнства

Медаль «За доблестный труд в Великой Отечественной войне 1941–1945 гг.»



сопряженных с риском для жизни. Первыми награжденными медалью стали солдаты и офицеры, участники боёв у озера Хасан (1938 г.) и на реке Халхин-Гол (1939 г.).

Медаль была учреждена Указом Президиума Верховного Совета СССР от 3 марта 1944 г. одновременно с одноименным орденом. Рисунок медали был разработан художником А. Л. Диодоровым и начальником организационно-мобилизационного управления Наркомата Военно-Морского Флота капитана 1-го ранга Б. М. Хомичем. «Медаль учреждена для награждения за мужество и отвагу, проявленные при защите социалистического Отечества на морских театрах, как в военное, так и в мирное время. Медалью награждаются матросы и солдаты, старшины и сержанты, мичманы и прапорщики Военно-морского Флота и морских частей пограничных войск.

6 июня 1945 г. Указом Президиума Верховного Совета СССР была учреждена медаль. Согласно Указу Президиума Верховного Совета СССР от 6 июня 1945 г. медалью награждались: «рабочие, инженерно-технический персонал и служащие промышленности и транспорта; колхозники и специалисты сельского хозяйства; работники науки, техники, искусства и литературы; работники советских, партийных, профсоюзных и других общественных организаций, обеспечивших своим доблестным трудом победу Советского Союза над Германией в Великой Отечественной войне...»


Медаль «За оборону Сталинграда»

Медаль «За взятие Берлина»

Медаль «За победу над Германией в Великой Отечественной войне 1941–1945 годов»

4 балла

Рассмотрите изображения медалей.



Соотнесите изображения медалей с их описанием. Обратите внимание на то, что среди изображений есть лишние.



«Наша страна в огне, жизнь требует, чтобы каждый гражданин, в котором бьётся сердце патриота, кто дышит и хочет дышать здоровым советским воздухом, стал на защиту нашей Родины. Прошу ... разрешения организовать отряд...» – писал в августе 1941 г. беспартийный инженер К. Заслонов, а затем командир отряда. Медаль 1-й степени изготавливалась из серебра в виде правильного круга, окаймленного бортиком с лицевой стороны. На лицевой стороне медали барельеф с погрудным профильным изображением В.И. Ленина и И.В. Сталина. В нижней части медали на складках ленты рельефные буквы «СССР» и звезда с серпом и молотом.



В конце сентября 1941 г. немецкие войска подошли к городу. Связь с ним поддерживалась только по воздуху и по озеру. Жители мужественно защищали родной город. Они строили оборонительные сооружения, сражались в народном ополчении, становились бойцами отрядов противовоздушной обороны. Фашисты не смогли взять город штурмом и решили взять его измором. Медаль изготавливалась в виде правильного круга, окаймленного бортиком с лицевой и обратной сторон. На лицевой стороне в центре медали силуэт здания Адмиралтейства – символа города, а на его фоне рельефные изображения солдат, матросов, рабочих и работниц с винтовками наперевес.



«...К середине октября сражение... достигло такого размаха, какого ещё не знала история войн... Вражеская артиллерия, и авиация подожгла нефтебаки. Разлилась горящая нефть. Пламя поднималось до 800 метров. Горела земля... Казалось, что всё живое должно было погибнуть среди этого моря огня. Но воины... выдержали. Несокрушимой стеной стояли они на своих рубежах» ... Медаль планировалось изготавливать из нержавеющей стали, но затем материалом для изготовления награды была утверждена латунь. Медаль изготавливалась в виде правильного круга, окаймленного бортиком с лицевой и обратной сторон. На лицевой стороне медали рельефные





изображения солдат с винтовками наперевес. Над ними с правой стороны — развевающееся знамя, а слева — рельефные изображения танков и летящих самолётов.



«Предстоящая битва была особой, ни с чем не сравнимой операцией. Войскам фронта нужно было прорвать сплошную эшелонированную зону мощных оборонительных рубежей, начиная от самой реки и кончая сильно укрепленным городом. Предстояло разгромить на подступах крупнейшую группировку немецко-фашистских войск и взять город, за который враг наверняка будет драться смертным боем»... Медаль изготавливалась из латуни в виде правильного круга, окаймлённого бортиком с лицевой и обратной стороны. На лицевой стороне медали под пятиконечной звездой рельефная надпись, а в нижней части полуvenок из дубовых листьев, перевитых лентой. На оборотной стороне медали — дата взятия города, под датой — рельефная пятиконечная звезда.

